

МИНИСТЕРСТВО ПРОСВЕЩЕНИЯ РОССИЙСКОЙ ФЕДЕРАЦИИ

Министерства образования и науки Республики Башкортостан

Администрация городского округа город
Нефтекамск Республики Башкортостан

Муниципальное общеобразовательное автономное учреждение
средняя общеобразовательная школа №11
городского округа город Нефтекамск Республики Башкортостан

РАССМОТРЕНО
на заседании ШМО
руководитель ШМО
учителей химии, биологии и
географии

/ А.М.Садртдинова/
Протокол №1 от 30.08. 2024г.

СОГЛАСОВАНО
Заместитель директора по
учебной работе
МОАУ СОШ №11

/Р.Р. Ямалтдинова/
Протокол МС №1 от 30.08.2024г.

УТВЕРЖДАЮ
Директор МОАУ СОШ №11

/И.Г. Аллаяров/
Приказ № 576 от 30.08. 2024г.

КОНТРОЛЬНО-ОЦЕНОЧНЫЕ СРЕДСТВА

по учебному предмету

«География. Базовый уровень»

для обучающихся 9 класса

г. Нефтекамск, 2024

Входная контрольная работа

1. Пояснительная записка

Входная контрольная работа проводится в начале учебного года с целью определения уровня подготовки обучающихся 9 классов в рамках мониторинга достижений планируемых результатов освоения основной общеобразовательной программы соответствующего уровня образования в 6 классе.

2. Назначение контрольной работы.

Определить уровень достижения планируемых результатов по географии обучающимися за курс 8 класса.

3. Документы, определяющие содержание и параметры контрольной работы.

- Приказ Министерства просвещения Российской Федерации от 18.05.2023г. №370 «Об утверждении федеральной образовательной программы основного общего образования» (зарегистрирован 12.07.2023 №74223).
- Учебный план основного общего образования МОАУ СОШ №11(приказ №567 от 30.08.2024 года).
- Положение о формах, периодичности и порядке текущего контроля успеваемости и промежуточной аттестации обучающихся Муниципального общеобразовательного автономного учреждения средняя общеобразовательная школа № 11 городского округа город Нефтекамск республики Башкортостан (приказ № 585 от 30.08.2024 года).

4. Условия проведения и время выполнения контрольной работы.

При выполнении работы обучающиеся должны быть обеспечены географическим атласом для 8 класса. На выполнение работы отводится 40 минут.

5. Содержание и структура контрольной работы.

Работа содержит 25 заданий. Каждая работа состоит из двух частей: 1, 2.

Часть 1 – направлена на проверку достижения уровня обязательной подготовки. Она содержит 17 заданий с выбором одного верного ответа из предложенных. С помощью этих заданий проверяется знание и понимание важных элементов содержания (понятий, их свойств и др.), владение основными алгоритмами.

Часть 2 содержит 8 заданий, при помощи которых проверяется усвоение и применение знания, в простейших практических ситуациях. Задания представленные в этой группе, требуют от учащихся более глубоких знаний Эти задания высокого уровня сложности, требующих развернутого ответа. При выполнении этих заданий учащиеся должны приводить необходимые обоснования и пояснения.

Работа для проведения контроля разработана в 2 вариантах.

6. Система оценивания контрольной работы.

Для оценивания результатов выполнения работ учащимися наряду с традиционной отметкой «2», «3», «4», и «5» применяется и еще один количественный показатель – общий балл, который формируется путем подсчета общего количества баллов, полученных учащимися за выполнение каждой части работы. Каждое задание части 1 оценивается в 1 балл, Б – 2 балла. Таким образом, за работу обучающийся может набрать максимальное количество баллов – 33.

7. Критерии оценивания контрольной работы.

- 0-11 балла - «2»;
- 12-19 баллов – «3»;
- 20-25 баллов – «4»;
- 26-33 баллов – «5».

Для обучающихся с ОВЗ:

- 0-6 баллов - «2»;
- 7-11 баллов – «3»;
- 12-19 баллов – «4»;
- 20-33 баллов – «5»

Входная контрольная работа по географии в 9 классе
1 ВАРИАНТ
ЧАСТЬ I.

1. Какое количество стран граничит с Россией по суше?
А) 12; Б) 14; В) 16; Г) 17

2. Какими морями омывается Россия на севере:
А) Красным и Средиземным;
Б) Карским и морем Лаптевых;
В) Балтийским и Черным;
Г) Охотским и Японским

3. В 1937-1938 годах был осуществлен дрейф станции «Северный полюс» на льдине. Руководил дрейфом...
А) С.В.Обручев;
Б) О.Ю.Шмидт;
В) И.Д.Папанин;
Г) Л.С.Берг

4. Назовите горы, которые находятся между Черным и Каспийским морями:
А) Тянь-Шань;
Б) Кавказ;
В) Саяны;
Г) Уральские

5. На каких тектонических структурах расположены самые обширные равнины России?
А) на платформах
Б) в подвижных складчатых поясах
В) в срединных массивах
Г) на щитах

6. Полюс холода северного полушария находится:
А) в Якутии;
Б) на Северном полюсе;
В) на острове Северная Земля;
Г) на островах Новая Земля

7. Назвать тип климата характерный для Западной Сибири:
А) Континентальный
Б) Муссонный
В) Резко континентальный
Г) Умеренно-континентальный

8. Отношение падения реки к ее длине называется:
А) Уклоном;
Б)падением;
В) Режимом;
Г) Паводком

9. Какое питание имеют большинство рек в РФ:
А) Дождевое;
Б) Снеговое;

- В) Смешанное;
- Г) Ледниковое

10. Какой из представителей растительности не относится к сообществу тундры:

- А) Мох;
- Б) Лишайник;
- В) Ковыль;
- Г) Клюква

11. Самые распространенные на территории России деревья?

- А) Сосна
- Б) Дуб
- В) Осина
- Г) Лиственница

12. В каком районе России наиболее плодородные почвы?

- А) Прикаспийская низменность
- Б) Среднерусская возвышенность
- В) Ставропольская возвышенность
- Г) Валдайская возвышенность

13. В Западной Сибири имеются запасы:

- А) Цветных металлов;
- Б) Нефти, газа, угля;
- В) Угля, меди, газа;
- Г) Калийных солей и фосфоритов

14. На территории Русской равнины не расположены:

- А) Река Алдан;
- Б) Прикаспийская низменность;
- В) Река Северная Двина;
- Г) Оз. Ильмень

15. Река Волга берет начало на:

- А) Приволжской возвышенности
- Б) Тиманском кряже
- В) Валдайской возвышенности
- Г) Среднерусской возвышенности

16. В области какой складчатости сформировались Уральские горы?

- А) Байкальской
- Б) Кайнозойской
- В) Каледонской
- Г) Герцинской

17. На какой из перечисленных природных территорий расположены действующие вулканы?

- А) Остров Врангеля
- Б) Курильские острова
- В) Приморье
- Г) Чукотский полуостров

ЧАСТЬ II.

1. Если в Москве (2 ч.п.) 16 часов, то в Красноярске (6 ч.п.) ...
А) 8; Б) 16; В) 20; Г) 12

2. Расставьте почвы России по мере уменьшения мощности гумусового горизонта, начиная с наибольшего;

- А) Дерново-подзолистые
- Б) Черноземы
- В) Подзолистые
- Г) Тундрово-глеевые

3. Для юга Дальнего Востока характерен климат с осадками, основная масса которых выпадает.....

- 1. Умеренный А) Весной
- 2. Умеренно-континентальный Б) Летом
- 3. Субтропический В) Осенью
- 4. Муссонный Г) Зимой

4. Установить соответствие:

- | Природный район | Номенклатура |
|----------------------|---------------------|
| 1. Русская равнина | А) г. Народная |
| 2. Западная Сибирь | Б) Северные Увалы |
| 3. Горы Южной Сибири | В) Кузнецкий Алатау |
| 4. Урал | Г) Сибирские Увалы |

5. Выберите правильную характеристику коэффициента увлажнения, если испаряемость в данной местности 650 мм, а годовое количество осадков 560 мм:

- А) К 1 увлажнение достаточное; Б) К
- В) К 1 увлажнение недостаточное; Г) К 1 увлажнение избыточное

6. Определите государства, имеющие сухопутную границу с Россией:

- А) Норвегия
- Б) Казахстан
- В) Армения
- Г) Китай
- Д) Молдавия
- Е) Туркмения

7. Установить соответствие:

- | Республики | Столицы |
|--------------|-------------------------|
| 1. Карелия | А) Петрозаводск |
| 2. Коми | Б) Магас |
| 3. Ингушетия | В) Нальчик Г) Сыктывкар |

8. Продолжите географические названия:

- А) Река Нижняя.....
- Б).....Увалы
- В) Среднесибирское
- Г) Валдайская ...

В) Подзолистые Г) Тундрово-глеевые

3. Для природного района Восточной Сибири характерен абсолютный минимум температур, особенно проявляющийся....., и сложился тип климата

- 1. Умеренный А) Весной
- 2. Умеренно-континентальный Б) Летом
- 3. Субтропический В) Осенью
- 4. Резко-континентальный Г) Зимой

4. Установить соответствие:

Природный район Номенклатура

- 1. Кавказ А) Амур;
- 2. Восточная Сибирь Б) Лена;
- 3. Дальний Восток В) Сев. Двина;
- 4. Русская равнина Г) Кубань

5. Выберите правильную характеристику коэффициента увлажнения, если испаряемость в данной местности 375 мм, а годовое количество осадков 460 мм:

- А) К 1 увлажнение достаточное;
- Б) К
- В) К 1 увлажнение недостаточное;
- Г) К 1 увлажнение избыточное

6. Назовите столицы государств, граничащих с Россией:

- А) Ереван Д) Ашхабад
- Б) Киев Е) Кишинев
- В) Минск
- Г) Тбилиси

7. Установить соответствие:

Республика Столица

- 1. Бурятия А) Улан-Уде
- 2. Марий-Эл Б) Чебоксары
- 3. Чувашия В) Саранск
- Г) Йошкар-Ола

8. Продолжите географические названия:

- А) Река Подкаменная..... Б).....Увалы
- В) Среднерусская Г) Прикаспийская ...

8. Ключ ответов

№ задания 1 вариант 2 вариант

ЧАСТЬ I.

- | | | |
|---|---|---|
| 1 | Б | В |
| 2 | Б | Б |
| 3 | В | Б |
| 4 | Б | В |
| 5 | А | Б |
| 6 | А | Б |
| 7 | А | В |
| 8 | А | Б |
| 9 | В | Б |

10	В	Г
11	Г	Б
12	В	А
13	Б	В
14	А	Г
15	В	А
16	Г	Б
17	Б	В

ЧАСТЬ II.

1	В	В
2	БАВГ	ГВАБ
3	4Б	Г4
4	1Б2Г3В4А	1Г2Б3А4В
5	Б	Г
6	АБГ	БВГ
7	1А2Г3Б	1А2Г3Б
8	Тунгуска Северные (Сибирские) Плоскогорье Возвышенность	Тунгуска Северные (Сибирские) Возвышенность Низменность

Итоговая контрольная работа

1. Пояснительная записка.

Итоговая контрольная работа по географии в 7 классе составлена в соответствии с требованиями ФГОС ООО и соответствует учебным возможностям учащихся данного обучения.

Цель: установление соответствия уровня обучающихся требованиям ФГОС ООО оценить подготовку учащихся 7 класса по географии с целью их итоговой аттестации при переходе в 8 класс.

2. Назначение контрольной работы.

Определить уровень достижения планируемых результатов по географии обучающимися за курс 7 класса.

3. Документы, определяющие содержание и параметры контрольной работы.

- Приказ Министерства просвещения Российской Федерации от 18.05.2023г. №370 «Об утверждении федеральной образовательной программы основного общего образования» (зарегистрирован 12.07.2023 №74223).
- Учебный план основного общего образования МОАУ СОШ №11(приказ №567 от 30.08.2024 года).
- Положение о формах, периодичности и порядке текущего контроля успеваемости и промежуточной аттестации обучающихся Муниципального общеобразовательного автономного учреждения средняя общеобразовательная школа № 11 городского округа город Нефтекамск республики Башкортостан (приказ № 585 от 30.08.2024 года).

4. Условия проведения и время выполнения контрольной работы.

При выполнении работы обучающиеся должны быть обеспечены географическим атласом для 7 класса. На выполнение работы отводится 40 минут.

5. Содержание и структура контрольной работы.

Каждый вариант контрольной работы состоит из 22 заданий: 18 (1-15, 18, 19, 20) заданий с выбором правильного ответа (ВО), 3 (16,17,21) задания с 1 кратким ответом (КО) и 1 (22) задание с развёрнутым ответом (РО).

В каждом варианте представлены задания базового уровня сложности, так и задания повышенного уровня сложности.

Распределение заданий по ее частям с учетом максимального первичного балла за выполнение каждой части работы дается в таблице:

№	Часть работы	Количество заданий	Максимально первично балл	Тип заданий
1	Часть 1	18	18	ВО
2	Часть 2	3	6	КО
3	Часть 3	1	3	РО
	Итого	22	27	

6. Система оценивания контрольной работы.

Правильно выполненная работа оценивается 27 баллами.

Каждое правильно выполненное задание 1-15, 18, 19, 20 оцениваются 1 баллом. Задание 22 – 3 баллами; 1 балл за каждое правильно установленное соответствие; задания 16,17,21 оцениваются 2 баллами, в 16м – по 0,5 баллов за каждую правильно подобранную пару

7. Критерии оценивания.

На основе баллов, выставленных за выполнение всех заданий работы, подчитывается общий балл, который переводится в отметку по пятибалльной шкале.

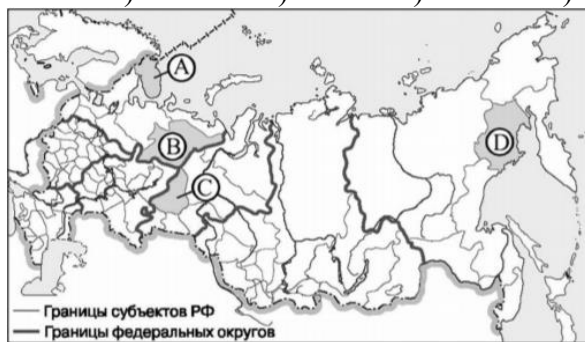
вариант	баллы	оценка
1,2	25-27	5
	19-24	4
	14-18	3
	13	2

Для обучающихся с ОВЗ:

вариант	баллы	оценка
1,2	19-27	5
	14-18	4
	9-13	3
	8	2

8. Итоговая контрольная работа по географии 9 класс Вариант 1

- Самая западная точка территории России расположена на границе с
а) Белоруссией б) Польшей в) Финляндией г) Латвией
- С какой из перечисленных групп стран Россия имеет сухопутную границу?
а) Эстония и Норвегия б) Туркмения и Грузия в) Киргизия и Казахстан г) Молдавия и Турция
- Какой из регионов, обозначенных буквами на карте России, имеет наибольшую среднюю плотность населения?
а) А б) В в) С г) D



- На территории какого из перечисленных регионов России наиболее велика вероятность сильных землетрясений?
а) Республика Бурятия б) Удмуртская республика в) Новосибирская область г) Ростовская область
- Расположите перечисленные ниже города в порядке увеличения в них численности населения.
а) Казань б) Черкесск в) Владивосток
- Буддизм исповедует большинство верующих:
а) чувашей и удмуртов б) тувинцев и бурят в) русских и мордвы г) татар и калмыков
- В каком из высказываний содержится информация о миграциях населения?
а) В России насчитывается более 18 тыс. сельских населённых пунктов, а городов – более тысячи.

б) К началу 2000 г. численность лиц старше трудоспособного возраста в России впервые превысила численность

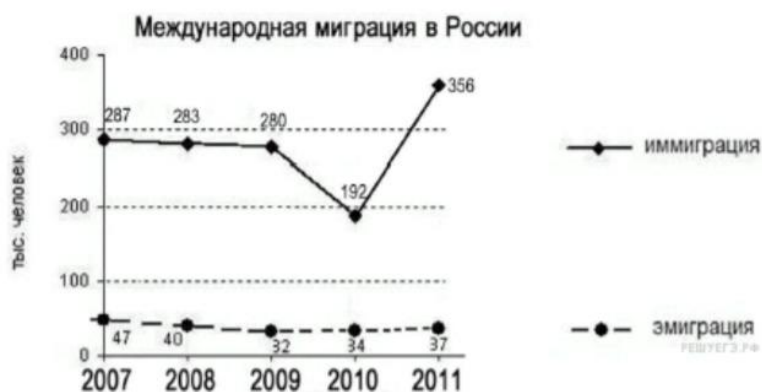
детей и подростков до 16 лет.

в) За 90-е гг. XX в. отток населения из Дальневосточного региона превысил 840 тыс. человек (11% всех жителей).

г) Более 40% россиян проживают в Центральном и Южном федеральных округах, где плотность населения

наибольшая и составляет соответственно 57 и 39 человек на 1 кв. км

8. Используя данные графика, определите показатель миграционного прироста населения в России в 2009 г.



9. К традиционным занятиям какого из перечисленных народов России относится оленеводство и рыболовство?

- а) башкиры б) ненцы в) чувашаи г) калмыки

10. Каким из перечисленных полезных ископаемых наиболее богаты недра Центральной России?

- а) алюминиевые руды б) природный газ в) каменный уголь г) железные руды

11. В каком из перечисленных городов России функционирует крупный металлургический комбинат полного цикла?

- а) Ставрополь б) Тула в) Краснодар г) Магнитогорск

12. Из предложенного списка городов выберите три центра автомобилестроения

- | | |
|---------------|----------------|
| 1.Тольятти | 4.Ижевск |
| 2.Волгоград | 5.Петрозаводск |
| 3.Новокузнецк | 6.Ульяновск |

13. Из предложенного списка выберите три региона РФ, специализирующихся на молочном животноводстве

- | | |
|-----------------------|------------------------|
| 1.Республика Дагестан | 4.Астраханская область |
| 2.Смоленская область | 5.Тверская область |
| 3.Вологодская область | 6.Республика Калмыкия |

14. Какое соответствие «промышленный центр-отрасль химической промышленности» является верным?

- | | |
|---|--|
| 1.Кемерово-производство калийных удобрений. | 2.Невинномыск-производство азотных удобрений |
| 3.Липецк-производство фосфорных удобрений | 4.Норильск- производство синтетического каучука. |

15. Определите регион России по его краткому описанию.

Этот автономный округ омывается водами одного из морей Северного Ледовитого океана. На территории округа находится устье одной из наиболее протяжённых рек России. Большую часть территории округа занимает тундра. Основное природное богатство — природный газ.

Вариант 2

1. Самая южная точка территории России расположена на границе с

- а) Грузией б) Арменией в) Азербайджаном б) Турцией

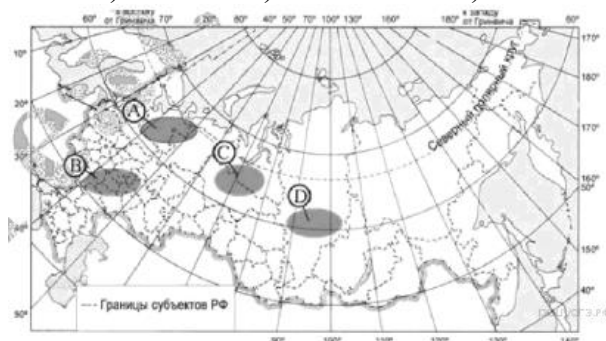
2. Какие из перечисленных государств имеют сухопутную границу с Россией?

- а) Эстония и Грузия б) Швеция и Армения в) Болгария и Молдавия г) Турция и

Иран

3. Какая из территорий, обозначенных буквами на карте России, имеет наибольшую среднюю плотность населения?

- а) А б) В в) С г) D



4. Глобальные изменения климата могут привести к таянию покровных ледников и повышению вследствие этого уровня Мирового океана. Какой из перечисленных городов России может в наибольшей степени пострадать в случае такого развития событий?

- а) Кемерово б) Калининград в) Новосибирск г) Курск

5. Расположите перечисленные ниже города в порядке увеличения в них численности населения.

- а) Екатеринбург б) Новокузнецк в) Сыктывкар

6. Большинство верующих каких из перечисленных народов исповедуют ислам?

- а) тувинцы и калмыки б) удмурты и карелы в) башкиры и кабардинцы г) коми и хакасы

7. В каком из высказываний содержится информация о воспроизводстве населения?

а) В январе - октябре 2012 г. в России отмечалось увеличение числа родившихся (в 80 субъектах Российской

Федерации) и снижение числа умерших (в 65 субъектах)

б) В 2011 г. удельный вес городского населения в общей численности населения Приволжского ФО составлял

71%, сельского- 29%.

в) Более четверти россиян (26%) проживает в Центральном федеральном округе, где средняя плотность

составляет 57 человек на 1 км².

г) В 2011 г. в Республику Бурятия из других регионов России прибыло 8873 человека, выбыло из Республики

Бурятия 13 636 человек.

8. Используя данные графика, определите показатель миграционного прироста населения в России в 2013 г.



9. К традиционным занятиям какого из народов России относится пастбищное животноводство

(овцеводство, коневодство и верблюдоводство)?

- а) карелы б) марийцы в) коми г) калмыки

10. Какие полезные ископаемые преобладают на Кольском полуострове:

- а) апатиты б) каменный уголь в) алмазы г) золото

11. Какой из перечисленных городов является центром автомобилестроения?

- а) Рязань б) Ставрополь в) Тольятти г) Тула

12. Из предложенного ниже списка городов выберите три центра черной металлургии.

- | | |
|-----------------|-----------------|
| 1. Братск | 4. Норильск |
| 2. Магнитогорск | 5. Липецк |
| 3. Нижний Тагил | 6. Красноуринск |

13. Из предложенного списка выберите три региона, специализирующихся на овцеводстве

- | | |
|------------------------|------------------------|
| 1. Республика Дагестан | 4. Ставропольский край |
| 2. Смоленская область | 5. Тверская область |
| 3. Вологодская область | 6. Читинская область |

14. Установите соответствие между морским портом и основными видами продукции, экспортируемыми через него.

- | Морской порт | Экспортная продукция |
|-----------------|-----------------------------|
| 1. Архангельск | А. нефть |
| 2. Новороссийск | Б. апатиты, цветные металлы |
| 3. Мурманск | В. лес |

15. Определите регион России по его краткому описанию.

Этот край имеет приморское положение. Он граничит с самой большой по численности населения страной в мире. Административный центр расположен на берегу одной

из самых протяженных рек России. Одной из ведущих отраслей хозяйства является лесная и

деревобрабатывающая промышленность.

9. ОТВЕТЫ К ИТОГОВОЙ КОНТРОЛЬНОЙ РАБОТЕ

№	баллы	Вариант 1	Вариант 2	Вариант 3	Вариант 4
1	1	б	в	в	в
2	1	а	а	в	б
3	1	в	б	в	в
4	1	а	б	б	г
5	1	БВА	ВБА	ВБА	ВБА
6	1	б	в	в	г
7	1	в	а	б	г
8	1	248	296	649	3536
9	1	б	б	б	г
10	1	г	а	в	а
11	1	в	а	б	в
12	1	г	в	в	г
13	1	13	31	13	21
14	1	АБВ	АБВ	АБВ	ВБА
15	2	1) наличие сырья-тайга 2) озера и реки-производство водоёмкое	1) потребитель 2) пересечение транспортных путей	1) потребитель 2) сырьё (на углях Кузнецкого угольного бассейна)	1) у ГЭС 2) потребитель
16	1	б	б	в	г
17	1	Владивосток	Татарстан	Бурятия	Саратов
18	1	240	400	460	690
19	1	юго- запад	восток	север	северо- восток
20	2	1в 2г 3б 4а	1б 2в 3г 4а	1в 2г 3а 4б	1г 2в 3а 4б
21	1	Ямало- Ненецкий АО	Хабаровский край	Псковская область	Иркутская область
22	1	Уральский	Поволжье	Северный	Северо-Западный

оценка	2	3	4	5
Тестовый балл	1-12	13-17	18-21	22-24
% выполнения	Менее 50	50-71	72-87	88-100